


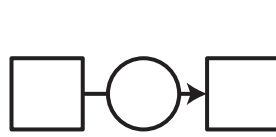
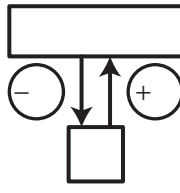
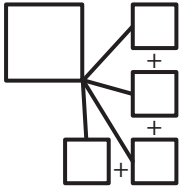
3

Le maître a commandé : des livres à 435,50 €, des paquets de feutres à 156,45 €, une carte du monde à 94,70 € et un aquarium à 127,85 €.

Quel est le montant total de sa commande ?

+

-



Phrase réponse :

4


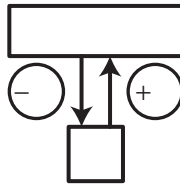
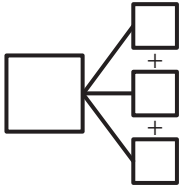
Au total, mes achats m'ont coûté 125,34 €.

Il y avait un chapeau à 28,35 €, une veste à 47,65 € et des gants à ... €.

Quel est le prix des gants ?

+

-

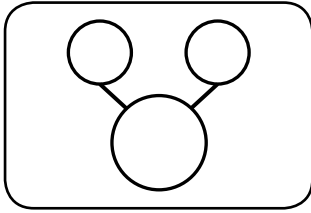
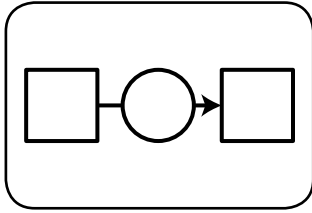
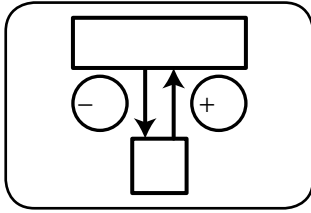
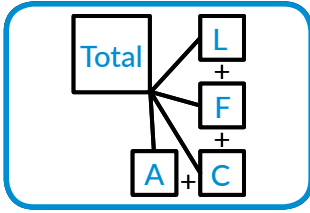



Phrase réponse :

3

Le maître a commandé : des livres à 435,50 €, des paquets de feutres à 156,45 €, une carte du monde à 94,70 € et un aquarium à 127,85 €.

Quel est le montant total de sa commande ?



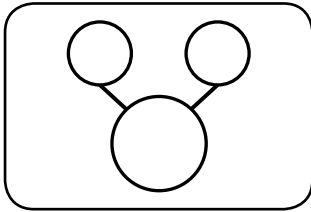
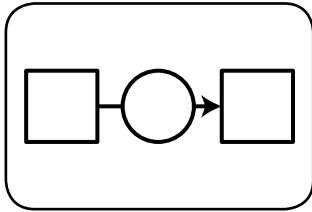
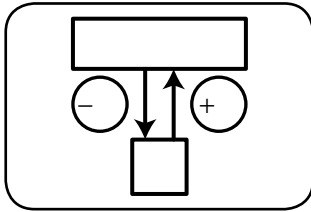
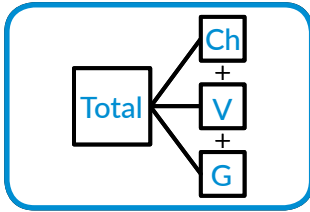

Calculs	Schéma
$ \begin{array}{r} 2221 \\ 435,50 \\ + 156,45 \\ + 94,70 \\ + 127,85 \\ \hline 814,50 \end{array} $	

Phrase réponse : *Le montant total de sa dépense est de 814,50 €.*

4

Au total, mes achats m'ont coûté 125,34 €. Il y avait un chapeau à 28,35 €, une veste à 47,65 € et des gants à ... €.

Quel est le prix des gants ?



Calculs	Schéma
$ \begin{array}{r} 111 \\ 28,35 \\ + 47,65 \\ \hline 76,00 \end{array} $ $ \begin{array}{r} 125,34 \\ - 76,00 \\ \hline 49,34 \end{array} $	

Phrase réponse : *Le prix des gants est de 49,34 €.*