

Grandeurs et mesures

CP/ CE1

Les masses et la monnaie

Ce lot contient 18 pages dont 7 fiches recto/verso
et un guide pédagogique

- Fiche 1 : Utiliser la bonne unité de masse
- Fiche 2 : La relation kg /g
- Fiche 3 : Résoudre des problèmes sur les masses
- Fiche 4 : Utiliser la monnaie (1)
- Fiche 5 : La relation euro / centimes
- Fiche 6 : Utiliser la monnaie (2)
- Fiche 7 : Évaluation

Ces fiches sont issues de l'ouvrage *Grandeurs et mesures Cycle 2*, d'André Michel
collection "Fiches ressources" dirigée par Jean-Luc Caron © Retz

9782725668598

RETZ

www.editions-retz.com

9 bis, rue Abel Hovelacque





75013 Paris

Pour t'aider

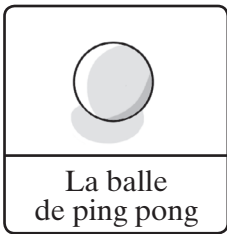
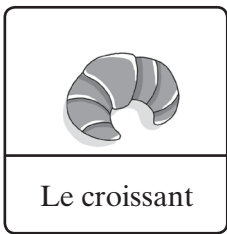

Tu as besoin d'une masse de 1 g et d'une masse de 1 kg.

1. Choisir la bonne masse.

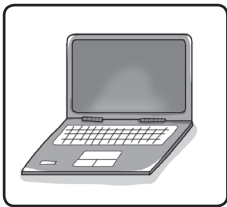




a) On utilise le kilogramme pour peser des objets lourds comme :

			
kg	Une pile d'assiettes	Des pommes de terre	Le seau d'eau

b) On utilise le gramme pour peser des objets légers comme :

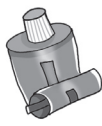


			
g	La balle de ping pong	Le croissant	La gomme

c) **Entraîne-toi** en **reliant** la bonne masse à l'objet à peser.

		
		
	kg	g

2. Utiliser la bonne unité : gramme (g) ou kilogramme (kg).

Écris l'unité choisie pour peser :

		
---	-------	---	-------	---	-------

Pour aller plus loin

Tu as besoin d'une balance.

Complète en cochant la bonne réponse. Vérifie à l'aide d'une balance.

	<input type="checkbox"/> Plus de 1 kg		<input type="checkbox"/> Plus de 1 kg
	<input type="checkbox"/> Moins de 1 kg		<input type="checkbox"/> Moins de 1 kg

Nom :

Date :


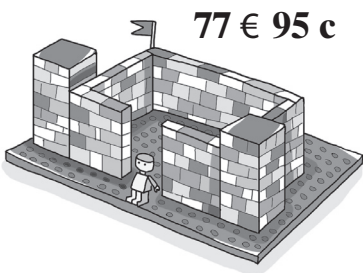
4 Utilise la monnaie.

a)



Écris le prix de l'ours en peluche :

b) Entoure les billets et les pièces que tu vas utiliser pour payer le château fort.



5 Résous le problème.



À la librairie, Clara a choisi 4 livres qui coûtent respectivement : 4 € 50 c, 5 €, 4 € 70 centimes et 4 € 30 c.

Combien Clara a-t-elle dépensé ?

Écris tes calculs :

Solution :

Évalue ton travail

a) Je sais utiliser la bonne unité de masse.

oui non



b) Je connais la relation kg/g.



c) Je sais résoudre des problèmes sur les masses.



d) Je sais utiliser la monnaie.



e) Je connais la relation euro / centimes.

