

Géométrie CE2

Observation et description de solides

Ce lot contient 19 pages dont 7 fiches recto/verso
et un guide pédagogique

Fiche 1 : Bilan des acquisitions du CE1

Fiche 2 : Observation de solides

Fiche 3 : Observation de solides : Les empreintes

Fiche 4 : Dessin d'un solide

Fiche 5 : Description de solides

Fiche 6 : Symétrie : Les pliages

Fiche 7 : Évaluation : Empreintes, solides et symétrie par pliage

Ces fiches sont issues de l'ouvrage *Géométrie CE2*, d'André Michel
collection "Fiches ressources" dirigée par Jean-Luc Caron © Retz

RETZ

www.editions-retz.com

9 bis, rue Abel Hovelacque

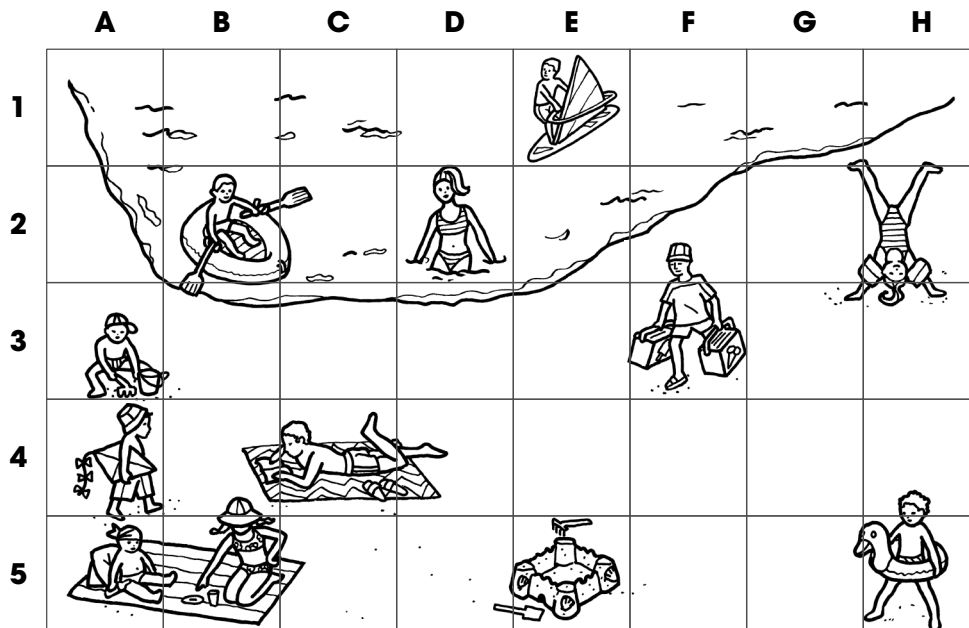
75013 Paris

Nom :

Date :

Dans cette fiche, tu vas essayer de te rappeler ce que tu as étudié au CE1 : **repérage** et **déplacement sur un quadrillage**, **pavage** et **symétrie**.

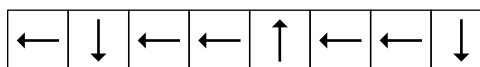
1 Observe le dessin de cette plage.



Écris dans quelle case se situe :

- le château de sable : (.....,);
- la planche à voile : (.....,);
- le canot pneumatique : (.....,).

Le marchand de glaces se déplace vers un enfant en suivant ce trajet :

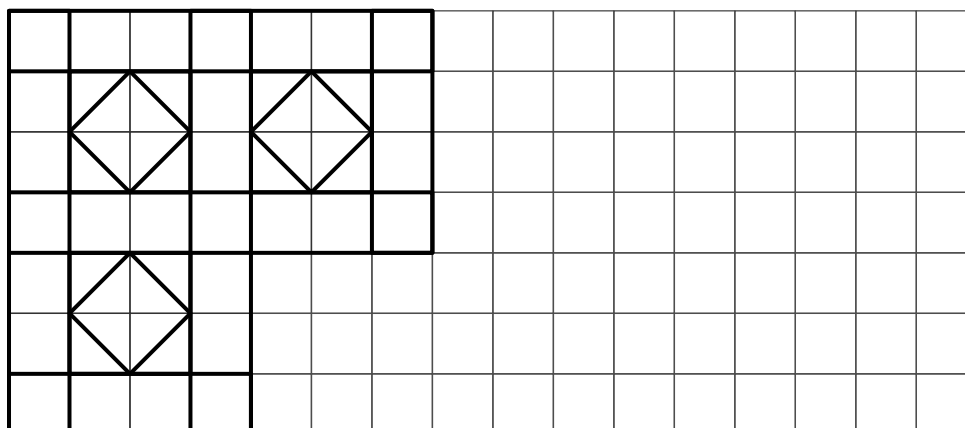


Marque, à l'aide de flèches, le trajet suivi.

Entoure en vert l'enfant qui a acheté une glace.

Dessine un ballon dans la case (D, 5) et un parasol dans la case (G, 4).


2 Termine le pavage en utilisant ta règle.



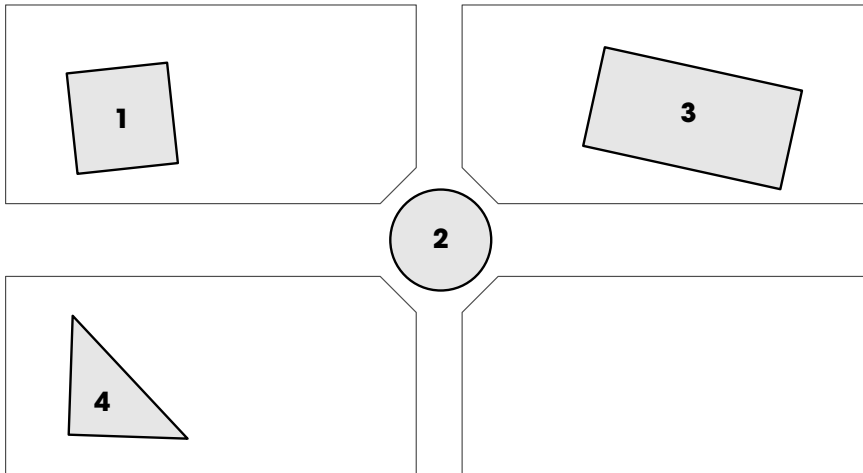
Colorie en vert les carrés et en rouge les rectangles.

Nom :

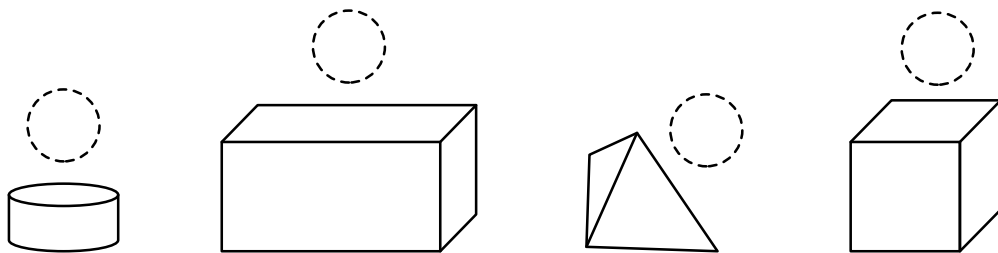
Date :



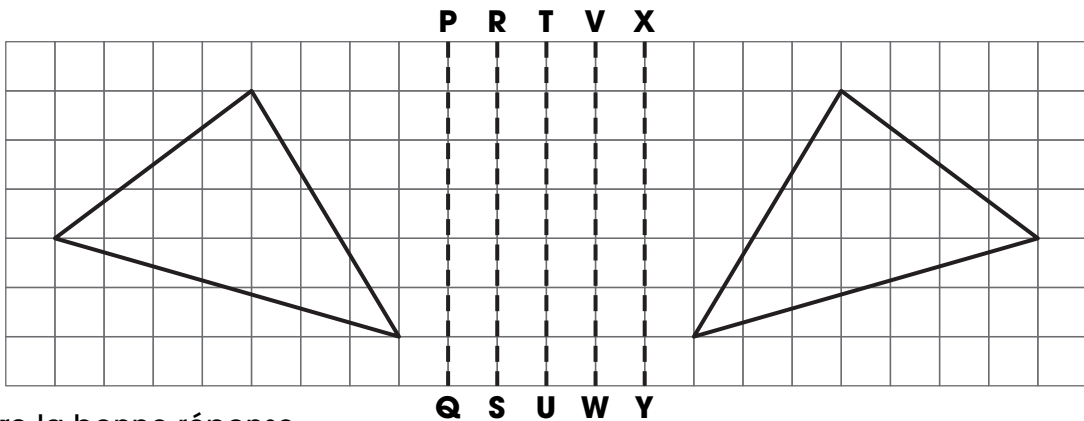
3 Observe le plan du jardin public.



Écris dans chaque cercle le numéro de l'empreinte qui correspond.



4 Repasse en rouge l'axe de symétrie des 2 figures et indique leur nom.



Entoure la bonne réponse.

La figure est : un triangle ; un carré ; un rectangle.

ÉVALUE TON TRAVAIL

- a) Je sais me repérer et me déplacer sur un quadrillage.
- b) Je sais tracer un pavage.
- c) Je sais reconnaître un triangle, un carré, un rectangle.
- d) Je sais reconnaître une empreinte et son solide.
- e) Je sais trouver un axe de symétrie.

| | |
|--------------------------|--------------------------|
| oui | non |
| <input type="checkbox"/> | <input type="checkbox"/> |
| <input type="checkbox"/> | <input type="checkbox"/> |
| <input type="checkbox"/> | <input type="checkbox"/> |
| <input type="checkbox"/> | <input type="checkbox"/> |
| <input type="checkbox"/> | <input type="checkbox"/> |