












<p>Une pie mange 12 cerises sur l'arbre de Lola et 7 cerises sur celui d'Ali.</p> <p> Combien de cerises la pie a-t-elle mangées ?</p>	<p>Il y a 12 cerises dans une assiette. Marc en mange 6.</p> <p> Combien de cerises reste-t-il dans l'assiette ?</p>
<p>Lola va à la danse, chaque jour à 17 h 00.</p> <p> Combien de fois Lola va-t-elle à la danse chaque semaine ?</p>	<p>Marc a 7 ans. Ali a un an de plus.</p> <p> Quel âge Ali a-t-il ?</p>
<p>Le chat de Marc a 9 ans. Le chat de Lola a 6 ans. Les chats d'Ali ont 1 an et 3 ans.</p> <p> Combien y a-t-il de chats en tout ?</p> <p> Quel âge le chat le plus vieux a-t-il ?</p>	<p>Ali a 10 crayons dans sa trousse. Lola en a deux fois moins. Marc en a deux fois plus.</p> <p> Combien de crayons Lola a-t-elle ?</p> <p> Combien de crayons Marc a-t-il ?</p>
<p>7 pies, sur 3 arbres, ont mangé 8 cerises et 4 pêches.</p> <p> Combien de fruits ont-ils été mangés ?</p>	<p>Deux équipes de 5 élèves jouent avec 1 ballon. L'équipe A gagne 3 buts à 0.</p> <p> Combien d'élèves ont joué ?</p>

- 7
- 12
- 6
- 10
- 19
- 4
- 8
- 20
- 5
- 9

Lola va à la danse 7 fois par semaine.	7	
12 fruits ont été mangés.	12	
Il reste 6 cerises dans l'assiette.	6	
10 élèves ont joué.	10	
La pie a mangé 19 cerises.	19	
Il y a 4 chats en tout.	4	
Ali a 8 ans.	8	
Marc a 20 crayons.	20	
Lola a 5 crayons.	5	
Le chat le plus vieux a 9 ans.	9	

Le Petit Chaperon rouge n'achète rien.	0 €	
5 baguettes et 1 sac de cailloux : $(5 \times 3) + 3$	18 €	
5 petits chaperons rouges : 5×4	20 €	
5 barbes bleues et 12 pommes : $(5 \times 2) + 0$	10 €	
3 queues de sirène : 3×7	21 €	
10 sacs de cailloux à la menthe : 10×3	30 €	
1 bonbon de chaque sorte : $5 + 4 + 4 + 3 + 3 + 2 + 1 + 7$	29 €	
1 carosse et 3 queues de sirène : $5 + (3 \times 7)$	26 €	
1 carosse et 1 barbe bleue : $5 + 2$	7 €	
2 bottes de sept lieues : 2×4	8 €	