








	$90 + \square = 100$	0
	$40 + \square = 100$	10
	$20 + \square = 100$	20
	$80 + \square = 100$	30
	$50 + \square = 100$	40
	$70 + \square = 100$	50
	$60 + \square = 100$	60
	$10 + \square = 100$	70
	$100 + \square = 100$	80
	$30 + \square = 100$	90

$100 + 0 = 100$

0



$90 + 10 = 100$

10



$80 + 20 = 100$

20



$70 + 30 = 100$

30



$60 + 40 = 100$

40



$50 + 50 = 100$

50



$40 + 60 = 100$

60



$30 + 70 = 100$

70



$20 + 80 = 100$

80









$10 + 90 = 100$

90



 J'ai 5 centaines et 8 unités.	264
 J'ai 5 dizaines et 8 centaines.	852
 J'ai le maximum d'unités possible, mais une seule dizaine.	419
 J'ai deux fois plus de centaines que de dizaines, et une unité.	841
 En additionnant le chiffre de mes centaines et celui de mes unités, on obtient le chiffre de mes dizaines.	538
 J'ai autant de centaines que d'unités, mais j'ai plus de dizaines.	999
 J'ai une centaine de plus que mes dizaines et une dizaine de plus que mes unités.	904
 Je n'ai pas de dizaine, mais j'ai 9 centaines.	876
 Je suis le nombre qui précède 1 000.	199
 Je suis le plus petit de ces nombres.	353

En additionnant le chiffre de mes centaines et celui de mes unités, on obtient le chiffre de mes dizaines.	264	
J'ai 5 dizaines et 8 centaines.	852	
J'ai le maximum d'unités possible, mais une seule dizaine.	419	
J'ai deux fois plus de centaines que de dizaines, et une unité.	841	
J'ai 5 centaines et 8 unités.	538	
Je suis le nombre qui précède 1 000.	999	
Je n'ai pas de dizaine, mais j'ai 9 centaines.	904	
J'ai une centaine de plus que mes dizaines et une dizaine de plus que mes unités.	876	
Je suis le plus petit de ces nombres.	199	
J'ai autant de centaines que d'unités, mais j'ai plus de dizaines.	353	