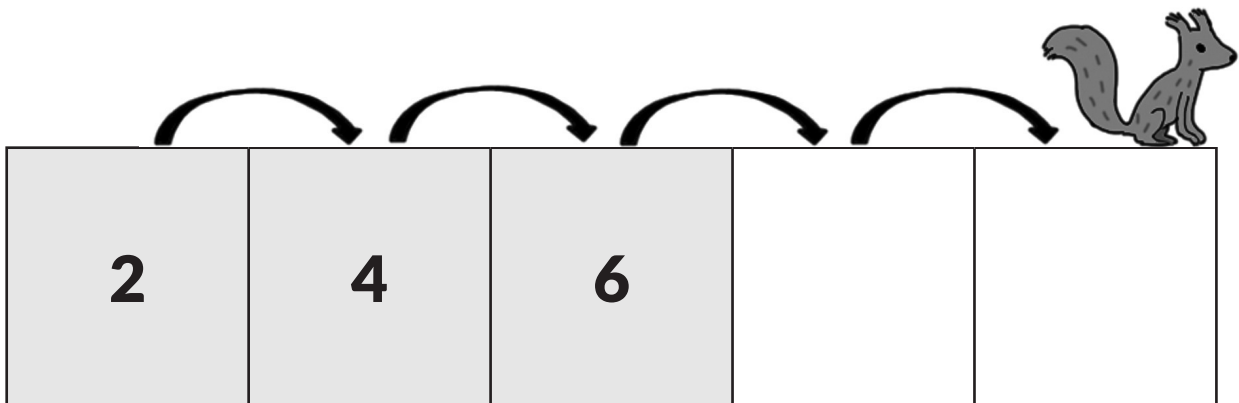


ENTRÉES • CALCULS

# LE PAS ADDITIF DE L'ÉCUREUIL

NIVEAU 1

Un écureuil saute de case en case dans le sens des flèches :



Quel est le pas de l'écureuil ?

.....



Complétez les cases vides.




 **ENTRÉES • CALCULS** 

# LE PAS ADDITIF DE L'ÉCUREUIL

NIVEAU 2

Un écureuil saute de case en case dans le sens des flèches :



Quel est le pas de l'écureuil ?

.....



Complétez les cases vides.






# LE PAS SOUSTRACTIF DE L'ÉCUREUIL

NIVEAU 2

Un écureuil saute de case en case dans le sens des flèches :



Quel est le pas de l'écureuil ?

.....



Complétez les cases vides.

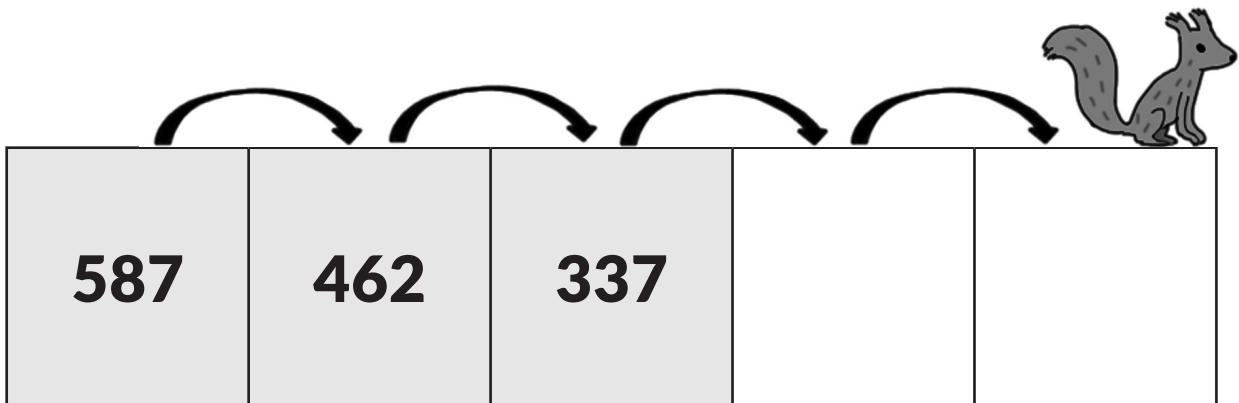




# LE PAS SOUSTRACTIF DE L'ÉCUREUIL

NIVEAU 3

Un écureuil saute de case en case dans le sens des flèches :



Quel est le pas de l'écureuil ?

.....



Complétez les cases vides.





# DAMIER DES NOMBRES

## NIVEAU 1

Trouvez le chemin en effectuant des sauts de + 4 de case en case.  
La sortie se situe dans un des quatre coins.

26	20	12	23	15	18	23	30	24	30
18	23	16	14	12	15	24	32	20	16
20	32	10	10	6	12	32	28	23	30
32	30	20	3	2	4	32	20	20	18
20	26	30	9	6	12	15	32	14	26
23	24	20	10	10	14	18	18	26	20
16	18	26	16	20	24	22	26	32	18
32	30	23	18	32	20	30	30	34	38



 **DESSERTS • CALCULS** 

# DAMIER DES NOMBRES

## NIVEAU 2

Trouvez le chemin en effectuant des sauts de + 13 de case en case.  
La sortie se situe dans un des quatre coins.

118	42	44	43	45	48	43	118	44	32
48	43	46	53	66	79	92	105	118	46
118	92	79	40	6	44	34	118	43	32
34	32	66	27	14	4	34	42	42	48
42	46	53	40	27	40	53	34	44	118
43	44	66	42	42	118	66	118	46	42
46	118	79	46	118	44	79	44	34	48
118	105	92	48	34	118	32	48	34	36





# OPÉRATIONS MÉLANGÉES

NIVEAU 1

Quels signes ( + ou - ) faut-il poser pour que l'opération mélangée soit juste ?

Vous pouvez utiliser plusieurs fois le même signe.

5
4
10
11





# OPÉRATIONS MÉLANGÉES

NIVEAU 2

Quels signes ( + ou - ) faut-il poser pour que l'opération mélangée soit juste ?

Vous pouvez utiliser plusieurs fois le même signe.

4 7
1 9
1 4
3 5
7 9
1 2 8

